



وزارة التربية

إدارة الشؤون التعليمية
مؤقتة الامتحانات وشؤون الطلبة



نموذج الإجابة

المرحلة المتوسطة

اختبارات نهاية الفصل الدراسي الأول

المادة: الاجتماعيات

الصف: الثامن

العام الدراسي

2018 / 2017

نموذج الإجابة

العام الدراسي ٢٠١٧ - ٢٠١٨ م
الزمن : ساعة وخمس وأربعون
عدد الأوراق : (٦) أوراق

امتحان نهاية الفترة الدراسية الأولى
للسف الثامن المتوسط
لمادة الكويت والعالم الإسلامي

وزارة التربية
الإدارة العامة لمنطقة مبارك الكبير التعليمية
التوجيه الفني العام للاجتماعيات

أجب عن جميع الأسئلة التالية:

السؤال الأول (موضوعي) يتكون من (أ - ب - ج - د - هـ - و)

أ- ضع خطأ تحت الخيار الصحيح من بين الخيارات التي تلي كل عبارة:- (لكل نقطة درجة)

١- إمارة قامت في شمال شبه الجزيرة العربية قبل الإسلام :

أ- معين ب- سبأ ج- الغساسنة د- حمير ص ١٧

٢- قائل عبارة (أيها الناس إني وليت عليكم ولست بخيركم) :

أ- أبي بكر الصديق ب- عمر بن الخطاب ج- عثمان بن عفان د- علي بن أبي طالب ص ٤٣

٣- تم القضاء على قوة اليهود نهائياً في شبه الجزيرة العربية بعد غزوة :

أ- أحد ب- الخندق ج- خيبر د- مؤتة ص ٣٧

٤- المدينة التي بناها عمرو بن العاص في مصر :

أ- الاسكندرية ب- الفيوم ج- الفرما د- الفسطاط ص ٤٦

٥- الخليفة العباسي الذي فتح مدينة عمورية :

أ- المعتصم ب- المأمون ج- هارون الرشيد د- المنصور ص ٥٥

٦- فتحت القسطنطينية على يد محمد الثاني في عام :

أ- ١٤٥٠ م ب- ١٤٥١ م ج- ١٤٥٢ م د- ١٤٥٣ م ص ٥٧

ب- صنف كلا من مناطق الفتح الإسلامي التالية حسب الجدول التالي :- (لكل نقطة درجة)

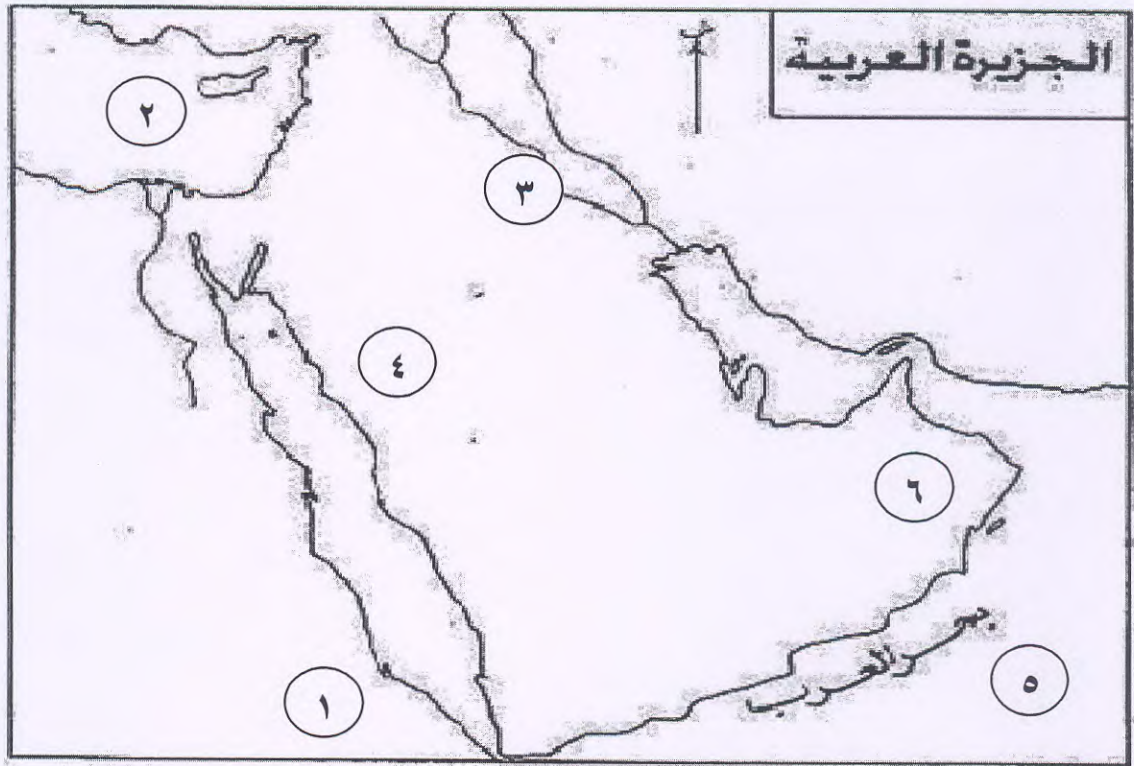
(الأندلس - فارس - السودان - القيروان - آسيا الصغرى)

عصر الخلفاء الراشدين	عصر الدولة الأموية	عصر الدولة العباسية
- فارس ص ٤٥	- الأندلس ص ٥١ - القيروان ص ٥٠	- السودان ص ٥٤

ج- أكمل العبارات التالية بما يناسبها فيما درست:- (لكل نقطة درجة)

- ١- تقع شبه الجزيرة العربية في الجنوب الغربي بالنسبة لقارة آسيا ص ١٥
- ٢- كل من يخالف قواعد القبيلة ونظامها يتعرض لعقوبة أسمها الخلع ص ١٨
- ٣- الخليفة الذي تم في عهده فتح مدينة القدس يسمى عمر بن الخطاب ص ٤٦
- ٤- أول مسجد بناه الرسول صلى الله عليه وسلم يسمى قباء ص ٢٩
- ٥- قائد المسلمين في معركة ذات الصواري عبدالله بن أبي سرح ص ٤٧
- ٦- العام الذي حج فيه الرسول صلى الله عليه وسلم حجة الوداع عام ١٠ هجري ص ٤٠

د-لاحظ خريطة شبه الجزيرة العربية الصماء ثم نفذ ما هو مطلوب منك :-




- أ- المدينة المنورة يمثلها على الخريطة الرقم ٤ ص ٣٢
- ب- معركة القادسية يمثلها على الخريطة الرقم ٣ ص ٤٥
- ج- بحر الروم يمثلها على الخريطة الرقم ٢ ص ١٧
- د- بلاد الحبشة يمثلها على الخريطة الرقم ١ ص ٢٨

٥ - صحح ما تحته خط في العبارات التالية : (لكل نقطة درجة)

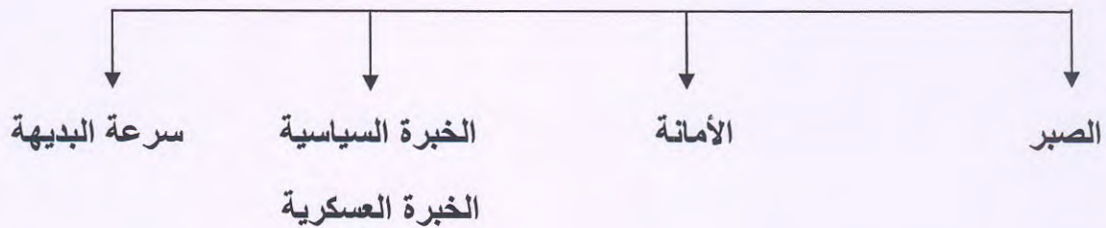
- ١- استمرت الدعوة السرية للدين الإسلامي مدة خمس سنوات .
٢- تم طرد يهود بني النضير من المدينة بعد غزوة حنين .
٣- الصحابي الذي أشار بحفر الخندق هو سعد بن عباد .
٤- قائد المسلمين في معركة اليرموك أسامة بن زيد .
- (ثلاث) ص ٢٦
(أحد) ص ٣٤
(سلمان الفارسي) ص ٣٥
(خالد بن الوليد) ص ٤٦

٦- أكمل المخططات السهمية التالية :- (لكل نقطة درجة)

١- الأنشطة الاقتصادية في شبه الجزيرة العربية قبل الإسلام : ص ١٩



٢- أهم الخبرات التي اكتسبها الرسول صلى الله عليه وسلم : ص ٢٥



السؤال الثاني يتكون من (أ- ب) :- (لكل نقطة درجة)

أ - أكتب ما تعرفه عن :-

- ١- شروط صلح الحديبية . ص ٣٦
- عودة المسلمين هذا العام على ان يعودوا في العام القادم لأداء العمرة لمدة ثلاث ايام
- تعقد هدنة بين الطرفين مدتها عشر سنوات
- من أراد الدخول في حلف محمد دخل ومن أراد الدخول في حلف قريش دخل
- من جاء من أهل مكة دون إذن وليه رده إليهم ومن جاء من أصحاب محمد لايردونه
- ٢- الأساليب التي استخدمتها قريش لمقاومة الدعوة الإسلامية . ص ٢٧
- الضغط على أبي طالب لإرغام ابن أخيه على ايقاف الدعوة و الكف عن سب الآلهة و الأصنام.
- استخدام أسلوب الجدل والاستهزاء والإغراء بالمال والجاه
- التهديد والاضطهاد والتعذيب لأصحاب الرسول - مقاطعة بني هاشم حيث كتبت وثيقة علقت على الكعبة
- ٣- أهداف الهجرة إلي الحبشة . ص ٢٩
- تخفيف الضغط على المسلمين
- نشر الإسلام خارج شبه شبه الجزيرة العربية - الحصول على المساعدة الخارجية للدعوة الإسلامية

ب- علل لما يلي :- (لكل نقطة درجة)

- ١- تفكك الدولة العباسية وزوالها . ص ٥٦
- الشعوبية ويقصد بها روح الانفصالية عند بعض الشعوب التي حكمها المسلمون .
- مشكلة ولاية العهد لأكثر من شخص - اتساع أراضي الدولة وصعوبة السيطرة عليها سياسيا وعسكرا
- ٢- الأهمية الجغرافية لموقع شبه الجزيرة العربية. ص ١٥
- حلقة وصل بين قارات العالم القديم اسيا وافريقيا وأوروبا - تطل على عدة مسطحات مائية
- ٣- هزيمة المسلمين في غزوة أحد . ص ٣٤
- نزول الرماة من الجبل لجمع الغنائم - مخالفة أوامر الرسول صلى الله عليه وسلم
- ٤- لم يدم الحكم الإسلامي في جزيرة صقلية . ص ٥٥
- بسبب هجمات النورمان وأباطرة الرومان



السؤال الثالث و يتكون من (أ- ب- ج):-

أ- عرف المفاهيم التالية :- (لكل نقطة درجة)

- ١- قبيلة : مجموعة من الناس تجمعهم وحدة الدم والمصلحة المشتركة ص ١٨
- ٢- سرية : مجموعة من القوة العسكرية ترسل إلي حدود الدولة الإسلامية ص ٣١
- ٣- صحيفة: دستور وقانون ينظم العلاقات الاجتماعية بين قبائل المدينة والقبايل المجاورة للمدينة و قبائل اليهود داخل المدينة . ص ٣١

ب- أذكر مثالين لكل مما يلي :- (لكل نقطة درجة)

- ١- الأسواق المحلية في موسم الحج في شبه الجزيرة قبل الإسلام . ص ٢٠
 - عكاظ
 - مجنة
 - ذو المجاز
 - هجر
 - دومة الجندل
 - حباشة
- ٢- المناطق التي انتشر فيها الإسلام في أوروبا في العصر العثماني . ص ٥٦
 - شرق أوروبا
 - البلقان
 - المجر
 - النمسا
 - منطقة البحر الأسود

ج- قارن بين كلاً مما يلي حسب الجدول التالي :- (لكل نقطة درجة)

أوجه المقارنة	الدولة الأموية	الدولة العباسية
اسم مؤسسها	- معاوية بن أبي سفيان ص ٤٨	- أبو العباس السفاح ص ٥٤
نتائج قيامها	- انتقال مقر الخلافة إلى دمشق - ادخال نظام الوراثة في الحكم - الاعتماد على العنصر العربي - اتساع الدولة العربية الإسلامية - تعريب الدواوين وسك العملة	- انتقال العاصمة من دمشق الي بغداد - ظهور الدويلات المستقلة قل اهتمام الدولة العباسية بالبحر المتوسط

السؤال الرابع يتكون من (أ- ب) :- (لكل نقطة درجة)

أ- عدد كلا مما يلي :-

- ١ - أعمال الرسول صلي الله عليه وسلم في المدينة المنورة . ص ٣١
 - بناء المسجد ليكون مركزا دينيا وسياسيا وثقافيا واقتصاديا
 - المصالحة و التعاون بين الأوس والخزرج
 - المؤاخاة بين الأنصار والمهاجرين
 - إصدار الصحيفة ٦٢٣ م .

٢- نتائج فتح مكة . ص ٣٩

- القضاء على أكبر قوة مقاومة للإسلام
- بداية لفتوحات الإسلامية خارج شبه الجزيرة العربية
- إسلام كثير من رجال قريش

ج- فرق بين كلاً مما يلي حسب الجدول التالي:- (لكل نقطة درجة)

طبقة الرقيق	طبقة الموالي
- هم العبيد الذين يقومون بكل الاعمال التي لاتقوم بها طبقة الاحرار والموالي ص ٢٢	- أبناء قبائل احرار انضموا للقبيلة الجديدة بدافع المصلحة فصاروا منها ويتم الانضمام باحدى الطرق التالية الجوار - الحلف - العتق ص ٢٢

المجوسية	الوثنية
- عبادة النار عند الفرس وانتشرت في مملكة الحيرة (العراق حاليا) ص ٢٤	- عبادة الأوثان يدين بها معظم قبائل العرب ص ٢٣

